

# Tracer un carré ou un rectangle sur papier uni

Compétences	Tracer un rectangle et un carré sur papier uni.
Calcul mental	Complément à un nombre < 20. Dire : « Combien faut-il ajouter à 8 pour obtenir 12 ? » ; l'élève écrit 4.
Différenciation	Consolidation : Photofiche 77 C.

$8 + \cdot = 12$

$7 + \cdot = 13$

$9 + \cdot = 14$

$8 + \cdot = 17$

$7 + \cdot = 15$

4

6

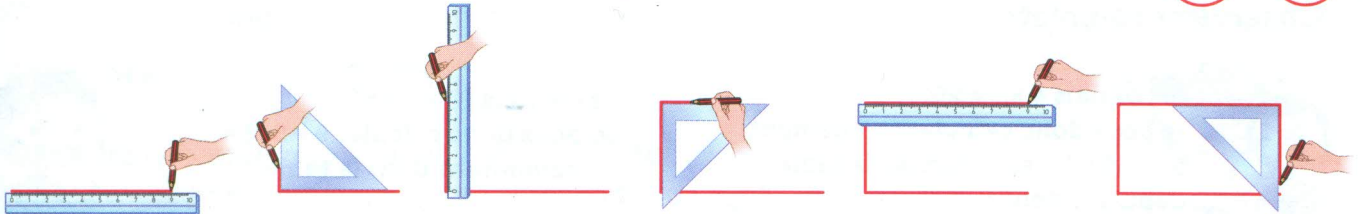
5

9


8

## Découvrons

1 Observe comment Théo trace un rectangle de 5 cm et de 9 cm de côté :



À ton tour **trace** ce rectangle.




Un rectangle possède 4 angles droits et des côtés opposés de même longueur.



## Je m'entraîne

2 Trace un rectangle.  
Deux côtés sont déjà tracés.



3 Trace 2 carrés de 3 cm de côté.



Un carré possède 4 angles droits et 4 côtés de même longueur.

